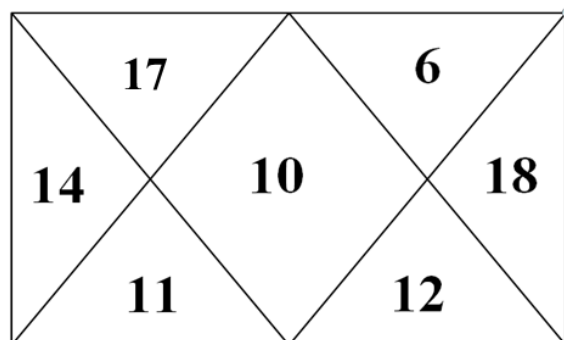
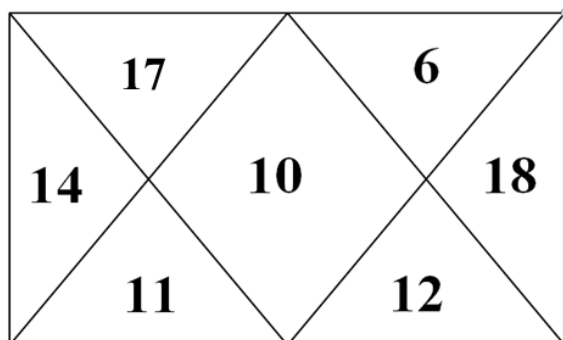
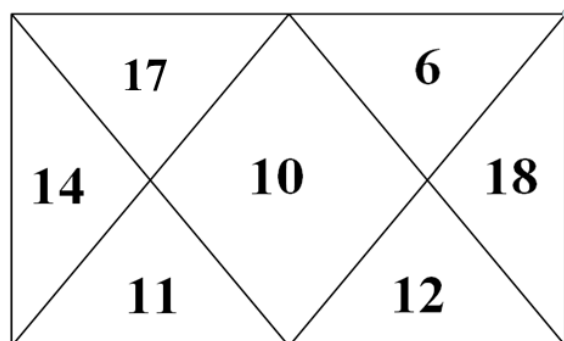
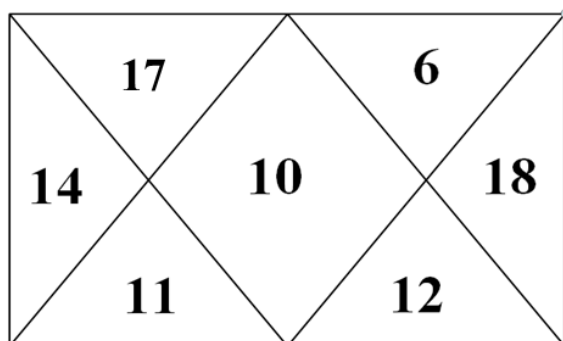
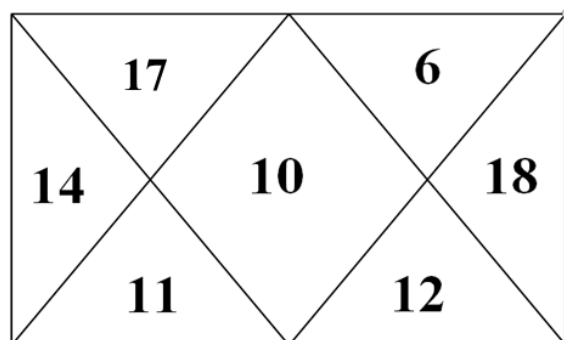
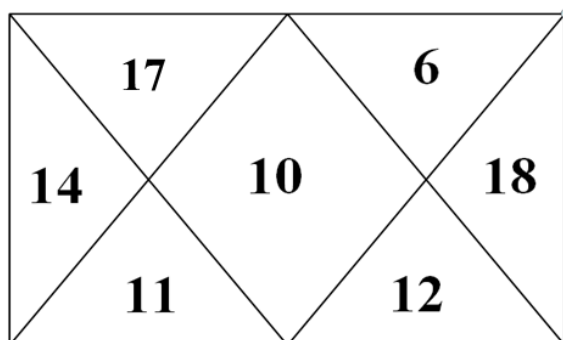
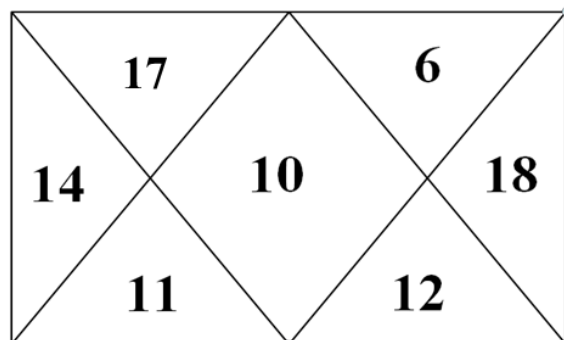
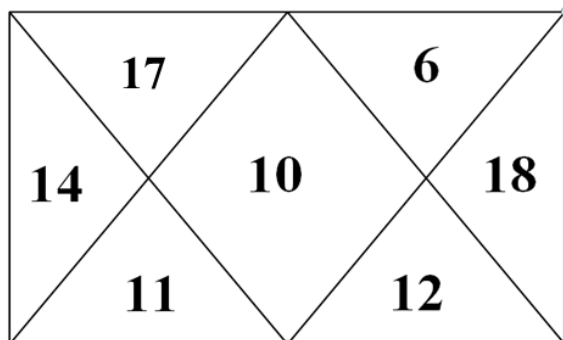


*Жукова М. И. учитель начальных классов высшей квалификационной категории средней школы № 1 имени Героя Советского Союза П. А. Кривоноса г. Кличева Могилёвской области, финалист конкурса «Учитель года Республики Беларусь 2023» в номинации «Начальные классы»*

## **Приём вычитания однозначных чисел**

### **по частям с переходом через десяток**

**Математика. II класс**





1

**Было — 15 к.**

**Поставили — 3 к.**


**Осталось — ?**

2


**Было — 15 к.**

**Поставили — 3 к.**


**Стало — ?**




$11 - 3 = \square$   
 $\square \quad \square$   
 $13 - 4 = \square$   
 $\square \quad \square$




$11 - 3 = \square$   
 $\square \quad \square$   
 $13 - 4 = \square$   
 $\square \quad \square$




$11 - 3 = \square$   
 $\square \quad \square$   
 $13 - 4 = \square$   
 $\square \quad \square$




$11 - 3 = \square$   
 $\square \quad \square$   
 $13 - 4 = \square$   
 $\square \quad \square$




$11 - 3 = \square$   
 $\square \quad \square$   
 $13 - 4 = \square$   
 $\square \quad \square$



$11 - 3 = \square$   
 $\square \quad \square$   
 $13 - 4 = \square$   
 $\square \quad \square$



$11 - 3 = \square$   
 $\square \quad \square$   
 $13 - 4 = \square$   
 $\square \quad \square$



$11 - 3 = \square$   
 $\square \quad \square$   
 $13 - 4 = \square$   
 $\square \quad \square$

### Карта успеха

Проверка домашнего задания	<input type="checkbox"/> выполнил правильно <input type="checkbox"/> допустил 1-2 ошибки <input type="checkbox"/> допустил 3-4 ошибки
Устный счёт	<input type="checkbox"/> справился с лёгкостью <input type="checkbox"/> испытывал трудности <input type="checkbox"/> не справился
Решение примера по алгоритму	<input type="checkbox"/> выполнил правильно <input type="checkbox"/> допустил одну ошибку <input type="checkbox"/> не смог решить
Самостоятельная работа	<input type="checkbox"/> выполнил правильно <input type="checkbox"/> допустил одну ошибку <input type="checkbox"/> не смог решить

### Карта успеха

Проверка домашнего задания	<input type="checkbox"/> выполнил правильно <input type="checkbox"/> допустил 1-2 ошибки <input type="checkbox"/> допустил 3-4 ошибки
Устный счёт	<input type="checkbox"/> справился с лёгкостью <input type="checkbox"/> испытывал трудности <input type="checkbox"/> не справился
Решение примера по алгоритму	<input type="checkbox"/> выполнил правильно <input type="checkbox"/> допустил одну ошибку <input type="checkbox"/> не смог решить
Самостоятельная работа	<input type="checkbox"/> выполнил правильно <input type="checkbox"/> допустил одну ошибку <input type="checkbox"/> не смог решить

## Карточкі для проверки домашняга задання

Рэши прымеры.

$6 + 4 + 2 = \underline{\quad}$

$7 + 3 + 5 = \underline{\quad}$

$8 + 2 + 1 = \underline{\quad}$

$5 + 5 + 4 = \underline{\quad}$

Рэши прымеры.

$6 + 4 + 2 = \underline{\quad}$

$7 + 3 + 5 = \underline{\quad}$

$8 + 2 + 1 = \underline{\quad}$

$5 + 5 + 4 = \underline{\quad}$

Рэши прымеры.

$6 + 4 + 2 = \underline{\quad}$

$7 + 3 + 5 = \underline{\quad}$

$8 + 2 + 1 = \underline{\quad}$

$5 + 5 + 4 = \underline{\quad}$